

МИНИСТЕРСТВО ОБРАЗОВАНИЯ И НАУКИ
РОССИЙСКОЙ ФЕДЕРАЦИИ

ФЕДЕРАЛЬНОЕ ГОСУДАРСТВЕННОЕ БЮДЖЕТНОЕ
ОБРАЗОВАТЕЛЬНОЕ УЧРЕЖДЕНИЕ
ВЫСШЕГО ПРОФЕССИОНАЛЬНОГО ОБРАЗОВАНИЯ
“МОСКОВСКИЙ ГОСУДАРСТВЕННЫЙ ТЕХНИЧЕСКИЙ
УНИВЕРСИТЕТ
РАДИОТЕХНИКИ, ЭЛЕКТРОНИКИ И АВТОМАТИКИ”

МАТЕМАТИЧЕСКИЙ АНАЛИЗ

I СЕМЕСТР

**КОНТРОЛЬНЫЕ ЗАДАНИЯ
ДЛЯ СТУДЕНТОВ ФАКУЛЬТЕТА
КИБЕРНЕТИКИ**

МОСКВА 2012

Составители: А.Г.Асланян, Н.В.Белецкая, И.П.Драгилева,
Ю.И.Простов, И.П.Фролов

Редактор Ю.И.Худак

Контрольные задания содержат типовой расчет по разделам математического анализа (теория пределов и дифференциальное исчисление), вошедшим в программу I семестра дневного отделения факультета Кибернетики. Типовой расчет выполняется студентами в письменном виде и сдается преподавателю до начала зачетной сессии. Для облегчения самостоятельной работы студентов контрольным заданиям предшествует разбор типовых примеров. Приведенные в пособии вопросы к зачету или экзамену могут быть уточнены и дополнены лектором. При составлении контрольных заданий за основу были взяты типовые расчеты, разработанные коллективом кафедры высшей математики.

Печатаются по решению редакционно-издательского совета университета.

Рецензенты: И.А.Соловьев
А.Л.Шелепин

© МИРЭА, 2012

Контрольные задания напечатаны в авторской редакции

Подписано в печать 05.09.2012. Формат 60×84 1/16.

Усл.печ.л. 2,09. Усл.кр.-отт. 8,37. Уч.-изд.л. 2,25.

Тираж 150 экз. С

Федеральное государственное бюджетное образовательное
учреждение высшего профессионального образования
“Московский государственный технический университет
радиотехники, электроники и автоматики”
119454, Москва, пр. Вернадского, 78

МАТЕМАТИЧЕСКИЙ АНАЛИЗ
I семестр
ТИПОВОЙ РАСЧЕТ
РЕШЕНИЕ ТИПОВЫХ ЗАДАЧ

Задача 1

Решение задачи основано на непосредственном использовании определения предела последовательности:

$$\lim_{n \rightarrow \infty} u_n = A \Leftrightarrow \forall \varepsilon > 0 \exists N(\varepsilon) : \forall n > N(\varepsilon) \Rightarrow |u_n - A| < \varepsilon.$$

Пример 1

С помощью определения предела последовательности показать, что последовательность $u_n = (2n - 1)/(n + 1)$ при $n \rightarrow \infty$ имеет своим пределом число 2. Найти целое значение N , начиная с которого $|u_n - A| < 10^{-2}$.

Решение

Рассмотрим неравенство

$$|u_n - 2| = \left| \frac{2n - 1}{n + 1} - 2 \right| = \left| \frac{-3}{n + 1} \right| < \varepsilon, \quad n - \text{натуральное,}$$

откуда $n > \varepsilon/3 - 1$. Следовательно, $\forall \varepsilon > 0 \exists N(\varepsilon) = [3/\varepsilon - 1] : \forall n > N \Rightarrow |u_n - 2| < \varepsilon$, где квадратные скобки обозначают целую часть числа. Т.о., число 2 является пределом последовательности. Пусть теперь $\varepsilon = 10^{-2}$. Тогда $N(1/100) = [3/0,01 - 1] = [300 - 1] = 299$.

Задача 2

При решении задач 2а и 2б рекомендуется пользоваться I и II замечательными пределами:

$$\lim_{x \rightarrow 0} \frac{\sin x}{x} = 1, \quad \lim_{x \rightarrow 0} (1 + x)^{\frac{1}{x}} = e.$$

Пример 2

Найти предел $A = \lim_{x \rightarrow 0} (\cos 2x)^{\frac{1}{x^2}}$.

Решение

$$\lim_{x \rightarrow 0} (\cos 2x)^{\frac{1}{x^2}} = \lim_{x \rightarrow 0} (1 + (\cos 2x - 1))^{\frac{1}{x^2}} = \lim_{x \rightarrow 0} (1 - 2 \sin^2 x)^{\frac{1}{x^2}} =$$

$$= \lim_{x \rightarrow 0} (1 - 2 \sin^2 x)^{\frac{-1}{2 \sin^2 x} \cdot \frac{-2 \sin^2 x}{x^2}} = \lim_{x \rightarrow 0} \left[(1 - 2 \sin^2 x)^{\frac{-1}{2 \sin^2 x}} \right]^{\frac{-2 \sin^2 x}{x^2}} = e^{-2}.$$

т.к. выражение в квадратной скобке стремится к числу e по I замечательному пределу, а выражение в показателе – к числу -2 по II замечательному пределу.

Задачи 3, 4

Эти задачи являются стандартными задачами дифференцирования. Для вычисления $y'(x)$ необходимо знать:

- производные основных элементарных функций;
- правила дифференцирования суммы, разности, произведения и частного;
- правило дифференцирования сложной функции (правило "цепочки").

Правило "цепочки"

Пусть сложная функция $y(x)$ задана цепочкой равенств:

$$y = f(u), \quad u = g(t), \quad t = p(x) \quad \text{или} \quad y(x) = f(u(t(x)))$$

(цепочка может быть произвольной длины). В этом случае

$$y'(x) = \frac{df}{du} \cdot \frac{du}{dt} \cdot \frac{dt}{dx}. \quad (1)$$

Пример 3

Найти производную $y'(x)$:

$$y = \sin \left(\ln \left(\sqrt{1+x^2} - x \right) \right).$$

Решение

Полагаем $t = \sqrt{1+x^2} - x$, $u = \ln t$, $y = \sin u$. Согласно формуле (1) имеем

$$\begin{aligned} y'(x) &= \frac{dy}{du} \cdot \frac{du}{dt} \cdot \frac{dt}{dx} = \cos u \cdot \frac{1}{t} \cdot \left(\frac{x}{\sqrt{1+x^2}} - 1 \right) = \\ &= - \frac{1}{\sqrt{1+x^2}} \cdot \cos \left(\ln \left(\sqrt{1+x^2} - x \right) \right). \end{aligned}$$

Можно не вводить промежуточные функции и сразу написать:

$$y' = \cos \left(\ln \left(\sqrt{1+x^2} - x \right) \right) \cdot \left(\ln \left(\sqrt{1+x^2} - x \right) \right)' =$$

продифференцировали синус, умножили на производную аргумента:

$$= \cos \left(\ln \left(\sqrt{1+x^2} - x \right) \right) \cdot \frac{1}{\sqrt{1+x^2} - x} \cdot \left(\sqrt{1+x^2} - x \right)' =$$

продифференцировали логарифм и умножили на производную аргумента. Нашли производную аргумента логарифма:

$$\begin{aligned} \cos \left(\ln \left(\sqrt{1+x^2} - x \right) \right) \cdot \frac{1}{\sqrt{1+x^2} - x} \cdot \left(\frac{x}{\sqrt{1+x^2}} - 1 \right) = \\ = - \frac{1}{\sqrt{1+x^2}} \cdot \cos \left(\ln \left(\sqrt{1+x^2} - x \right) \right). \end{aligned}$$

Пример 4

Найти производную $y'(x)$:

$$y(x) = \arcsin \left(\sqrt{1-e^x} \right).$$

Решение

Имеем

$$y' = \frac{1}{\sqrt{1-(1-e^x)}} \cdot (\sqrt{1-e^x})' = \frac{1}{\sqrt{e^x}} \cdot \frac{1}{2\sqrt{1-e^x}} \cdot (1-e^x)' = - \frac{\sqrt{e^x}}{2\sqrt{1-e^x}}.$$

Задача 5

Данная задача связана с вычислением логарифмической производной. Пусть задана функция $y = f(x)$. Имеем:

$$\ln y = \ln f(x), \quad \frac{1}{y(x)} \cdot y'(x) = (\ln(f(x)))',$$

следовательно:

$$y'(x) = y(x) \cdot (\ln(f(x)))'. \quad (2)$$

Формула логарифмической производной упрощает нахождение производной, если функция $\ln(f(x))$ дифференцируется легче, чем исходная функция $f(x)$ ($f(x)$ содержит произведения, частное, степени и удобна для логарифмирования).

Пусть, например, функция задана в виде:

$$y = f(x) \equiv \frac{(f_1(x))^{a(x)} (f_2(x))^{b(x)}}{(f_3(x))^{c(x)}}.$$

В этом случае

$$\ln(f(x)) = a(x) \ln(f_1(x)) + b(x) \ln(f_2(x)) - c(x) \ln(f_3(x))$$

и, согласно формуле (2),

$$y' = y(x) [a(x) \ln(f_1(x)) + b(x) \ln(f_2(x)) - c(x) \ln(f_3(x))]'.$$

Дифференцировать каждое слагаемое внутри скобок проще, чем дифференцировать исходную функцию.

Пример 5

Найти производную функции

$$y = \frac{(1+x^2)^{2x} \cdot \sin^2 x}{\sqrt{1+\ln x}}.$$

Решение

$$\text{Имеем} \quad \ln y = 2x \ln(1+x^2) + \ln \sin^2 x - \frac{1}{2} \ln(1+\ln x);$$

$$\frac{y'}{y} = 2 \ln(1+x^2) + \frac{4x^2}{1+x^2} + 2 \cdot \frac{\cos x}{\sin x} - \frac{1}{2(1+\ln x)} \cdot \frac{1}{x}.$$

Отсюда находится производная y' .

Задача 6

В этой задаче требуется найти производную функции, заданной параметрически. Пусть функция $y(x)$ задана параметрически:

$$\begin{cases} x = x(t); \\ y = y(t). \end{cases}$$

Для ее производной справедлива следующая формула:

$$y'_x = \frac{y'_t}{x'_t}. \quad (3)$$

Пример 6

Найти производную функции $y(x)$, заданной параметрически:

$$\begin{cases} x = \sin^4 t; \\ y = \cos^4 t. \end{cases}$$

Решение

Имеем:

$$x'_t = 4 \sin^3 t \cdot \cos t; \quad y'_t = -4 \cos^3 t \cdot \sin t.$$

По формуле (3) находим:

$$y'_x = \frac{-4 \cos^3 t \cdot \sin t}{4 \sin^3 t \cdot \cos t} = -\operatorname{ctg}^2 t.$$

Задача 7

Найти производную функции, заданной неявно. Пусть уравнение

$$F(x, y) = 0$$

определяет неявным образом некоторую дифференцируемую функцию $y(x)$. Для ее производной справедлива формула:

$$y'(x) = - \frac{F'_x(x, y)}{F'_y(x, y)}. \quad (4)$$

Здесь F'_x и F'_y производные функции $F(x, y)$ по переменной x и y соответственно (при дифференцировании по x переменная y считается постоянной и наоборот).

Пример 7

Найти производную $y'(x)$ неявной функции $y(x)$ определенной уравнением:

$$x^2 y - \sin(x - y^3) - 5 = 0.$$

Решение

Имеем:

$$F(x, y) = x^2 y - \sin(x - y^3) - 5;$$

$$F'_x = 2xy - \cos(x - y^3); \quad F'_y = x^2 - \cos(x - y^3) \cdot (-3y^2)$$

и по формуле (5) находим:

$$y' = - \frac{2xy - \cos(x - y^3)}{x^2 + 3y^2 \cos(x - y^3)}.$$

Производную y' можно найти, не прибегая к формуле (4).

Пример 8

Найти производную y' функции, заданной неявно уравнением:

$$x^2 y^3 - xy + \sin y = 0.$$

Решение

Функция $y(x)$ определяется исходным уравнением, поэтому, если подставить ее вместо y в левую часть равенства, получим тождество

$$x^2 y^3(x) - xy(x) + \sin y(x) \equiv 0. \quad (5)$$

Продифференцируем левую часть равенства (5) по правилу дифференцирования сложной функции:

$$2xy^3(x) + 3x^2 y^2(x) \cdot y'(x) - y(x) - xy'(x) + \cos y(x) \cdot y'(x) \equiv 0.$$

Отсюда легко находим y' :

$$y' = \frac{y - 2xy^3}{3x^2 y^2 - x + \cos y}.$$

Дифференцируя равенство еще раз, можно найти y'' и т.д.

Задачи 8, 9

Вычислить предел по правилу Лопиталья. Правило Лопиталья используется при вычислении пределов, содержащих неопределенности типов $\frac{0}{0}$, $\frac{\infty}{\infty}$, а также неопределенностей, сводящиеся к указанным типам.

Пример 9

Найти предел $A = \lim_{x \rightarrow 0} \frac{\arcsin x^2}{\ln^2(1+x)}$.

Решение

Неопределенность типа $\frac{0}{0}$. Используем правило Лопиталья:

$$\begin{aligned} A &= \lim_{x \rightarrow 0} \frac{(\arcsin x^2)'}{(\ln^2(1+x))'} = \lim_{x \rightarrow 0} \frac{2x}{\sqrt{1-x^4}} \cdot \frac{(1+x)}{2 \ln(1+x)} = \\ &= \lim_{x \rightarrow 0} \frac{2(1+x)}{\sqrt{1-x^4}} \cdot \lim_{x \rightarrow 0} \frac{x}{\ln(1+x)} = 2 \lim_{x \rightarrow 0} \frac{x}{\ln(1+x)}. \end{aligned}$$

Снова имеем неопределенность типа $\frac{0}{0}$. Повторно применяем правило Лопиталья:

$$A = 2 \lim_{x \rightarrow 0} \frac{(x)'}{(\ln(1+x))'} = 2 \lim_{x \rightarrow 0} (1+x) = 2.$$

Пример 10

Найти предел $A = \lim_{x \rightarrow +0} \frac{\ln x}{x^{-2}}$.

Решение

Неопределенность типа $\frac{\infty}{\infty}$. Применяем правило Лопиталья:

$$A = \lim_{x \rightarrow +0} \frac{(\ln x)'}{(x^{-2})'} = \lim_{x \rightarrow +0} \frac{-x^2}{2} = 0.$$

Пример 11

Найти предел $A = \lim_{x \rightarrow 0} \left(\frac{1}{x} - \frac{1}{\sin x} \right)$.

Решение

Неопределенность типа $\infty - \infty$. Преобразуем к неопределенности типа $\frac{0}{0}$ и применим дважды правило Лопиталья:

$$A = \lim_{x \rightarrow 0} \frac{\sin x - x}{x \sin x} = \lim_{x \rightarrow 0} \frac{\cos x - 1}{\sin x + x \cos x} = \lim_{x \rightarrow 0} \frac{-\sin x}{2 \cos x - x \sin x} = 0.$$

Пример 12

Найти предел $A = \lim_{x \rightarrow \infty} x \cdot \ln \left(\frac{1+x}{x} \right)$.

Решение

Неопределенность типа $0 \cdot \infty$. Преобразуем к неопределенности типа $\frac{0}{0}$ и применим правило Лопиталья:

$$\begin{aligned} A &= \lim_{x \rightarrow \infty} \frac{\ln(1+x^{-1})}{x^{-1}} = \lim_{x \rightarrow \infty} \frac{(1+x^{-1})^{-1} \cdot (-x^{-2})}{(-x^{-2})} = \\ &= \lim_{x \rightarrow \infty} \frac{1}{1+x^{-1}} = 1. \end{aligned}$$

Пример 13

Найти предел $A = \lim_{x \rightarrow 0} (\cos x)^{1/x}$.

Решение

Неопределенность типа 1^∞ . Преобразуем к неопределенности типа $\frac{0}{0}$ и применим правило Лопиталья:

$$\begin{aligned} A &= \lim_{x \rightarrow 0} e^{\ln(\cos x)/x} = e^B; \quad B = \lim_{x \rightarrow 0} \frac{\ln(\cos x)}{x}; \\ B &= \lim_{x \rightarrow 0} \frac{-\operatorname{tg} x}{1} = 0 \Rightarrow A = e^0 = 1. \end{aligned}$$

Задача 10

Разложить функцию по формуле Тейлора. Если $x_0 \neq 0$, полезно

сделать замену $x - x_0 = t$ и далее воспользоваться разложениями основных элементарных функций.

Пример 14

Разложить по формуле Тейлора функцию $y = \frac{5x - 8}{3x + 12}$ в окрестности точки $x_0 = 2$ до $o((x - 2)^4)$.

Решение

Делаем замену $x - 2 = t$; $x = 2 + t$:

$$y = \frac{10 + 5t - 8}{6 + 3t + 12} = \frac{2 + 5t}{18} \cdot \frac{1}{1 + t/6}.$$

Используем стандартное разложение:

$$\begin{aligned} &= \frac{2 + 5t}{18} \left(1 - \frac{t}{6} + \frac{t^2}{6^2} - \frac{t^3}{6^3} + \frac{t^4}{6^4} + o(t^4) \right) = \\ &= \frac{1}{9} + \frac{7}{27}t - \frac{7}{162}t^2 + \frac{7}{972}t^3 - \frac{7}{5832}t^4 + o(t^4). \end{aligned}$$

Возвращаясь к старой переменной, окончательно находим:

$$\begin{aligned} y = \frac{1}{9} + \frac{7}{27}(x - 2) - \frac{7}{162}(x - 2)^2 + \frac{7}{972}(x - 2)^3 - \frac{7}{5832}(x - 2)^4 + \\ + o((x - 2)^4). \end{aligned}$$

Пример 15

Разложить по формуле Тейлора функцию

$$y = (2x^2 - 3x) \cdot \ln(7x + 8)$$

в окрестности точки $x_0 = -1$ до $o((x + 1)^4)$.

Решение

Делаем замену $x + 1 = t$; $x = t - 1$:

$$y = [2(t^2 - 2t + 1) - 3t + 3] \cdot \ln(1 + 7t) = (2t^2 - 7t + 5) \cdot \ln(1 + 7t).$$

Используем разложение для логарифма:

$$\begin{aligned} y = (2t^2 - 7t + 5) \cdot \left[7t - \frac{7^2 t^2}{2} + \frac{7^3 t^3}{3} - \frac{7^4 t^4}{4} + o(t^4) \right] = \\ = 35t - \frac{7^3}{2}t^2 + \frac{7^3 \cdot 601}{6}t^3 - \frac{7^4 \cdot 607}{12}t^4 + o(t^4); \end{aligned}$$

Возвращаемся к переменной x :

$$y = 35(x + 1) - \frac{7^3}{2}(x + 1)^2 + \frac{7^3 \cdot 601}{6}(x + 1)^3 - \frac{7^4 \cdot 607}{12}(x + 1)^4 + \\ + o((x + 1)^4).$$

Задачи 12, 13, 14, 15

Построить графики элементарных функций.

Пример 16

Построить график функции $y = \frac{x^3 + 3x^2 + 15x + 18}{x^2 + 5x + 6}$.

Решение

Область определения: $x \neq -2$; $x \neq -3$ (нули знаменателя).

Функция имеет вид $y = P(x)/Q(x)$. Так как $P(-2) = -8 \neq 0$, $P(-3) = -27 \neq 0$, то прямые $x = -2$ и $x = -3$ являются вертикальными асимптотами. При этом значение функции стремится к $-\infty$ когда x стремится к -2 справа или к -3 слева (это легко определяется по знакам числителя и знаменателя в окрестности указанных точек). Аналогично, значение функции стремится к $+\infty$ когда x стремится к -2 слева и к -3 справа.

Поделив ("уголком") числитель на знаменатель, выделим целую часть дроби:

$$y = x - 2 + \frac{19x + 30}{x^2 + 5x + 6} \quad (6)$$

Отсюда видно, что прямая $y = x - 2$ является наклонной асимптотой (так как при $x \rightarrow \infty$ дробная часть функции в формуле (6) стремится к нулю. Наклонную асимптоту можно найти и по стандартным формулам. Из формулы (6) следует, что график функции пересекает наклонную асимптоту в единственной точке: $x = -30/19 \approx -1,58$. Строим эскиз графика.

Положение экстремумов и точки перегиба уточним с помощью производных. Имеем:

$$y' = \frac{x^2(x^2 + 10x + 18)}{(x^2 + 6x + 6)^2}; \quad y'' = \frac{x(38x^2 + 180x + 216)}{(x^2 + 5x + 6)^3}.$$

Из выражений для производных следует, что $x = 0$ - точка перегиба, в точке $x = -5 + \sqrt{7} \approx -2,35$ функция достигает минимума (который, как легко вычислить, положителен), в точке $x =$

$-5 - \sqrt{7} \approx -7,64$ функция достигает максимума. Уточненный график функции представлен на рис.1.

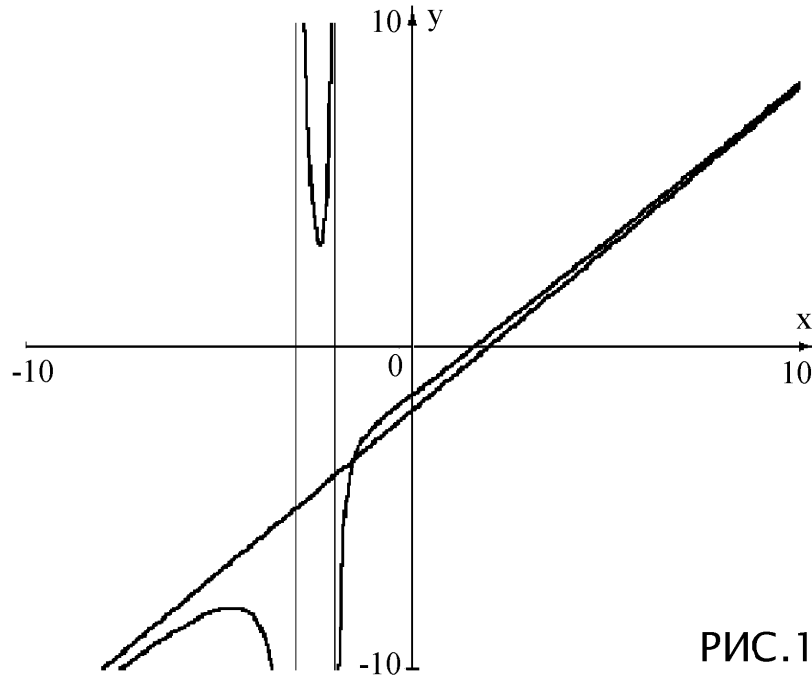


РИС.1

Пример 17

Построить график функции $y = x^3 \cdot \sqrt[5]{(x+2)^2}$.

Решение

Функция обращается в нуль в двух точках: $x = -2$; $x = 0$. При $x > 0$ функция положительна и монотонно растет. При больших положительных значениях x имеем:

$$y \approx x^3 \cdot x^{2/5} = x^{17/5}.$$

При $x < 0$ значения функции отрицательны. Отсюда, в частности, следует, что на интервале $(-2; 0)$ функция достигает минимума (который уточним с помощью производной). При больших отрицательных значениях x имеем

$$y \approx -|x|^{17/5}.$$

Делаем эскиз графика функции.

Далее, вычисляя производные:

$$y' = \frac{x^2}{5} \cdot (x+2)^{-3/5} \cdot (17x+30),$$

$$y'' = \frac{x}{5} \cdot (x + 2)^{-8/5} \cdot (204x^2/5 + 144x + 120),$$

определяем положение экстремумов и точек перегиба. Из этих формул следует, что в точке $x = -30/17$ функция достигает минимума; $x = 0$ и $x = 5(-144 \pm \sqrt{1152})/408$ - точки перегиба. В точке $x = -2$ производная функции $y'(x)$ обращается в бесконечность - касательная к графику в данной точке вертикальна.

Уточненный график функции приведен на рис. 2.

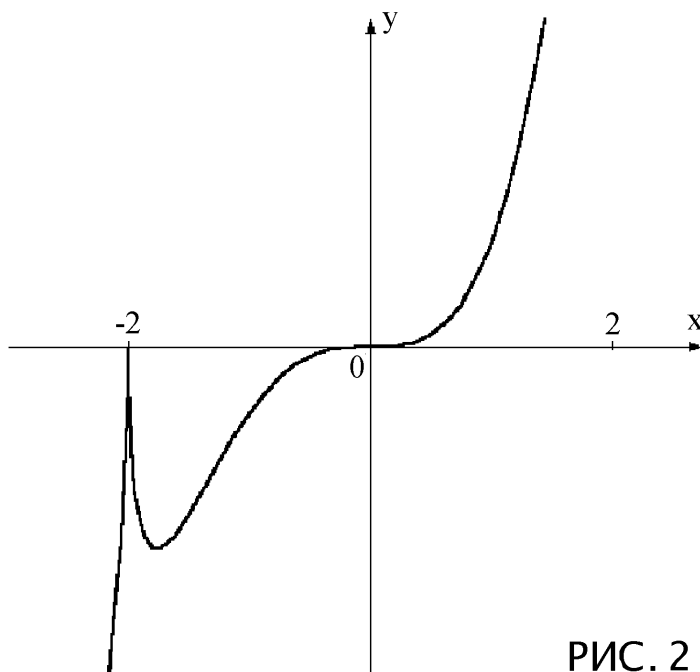


РИС. 2

Пример 18

Построить график функции: $y = \frac{e^{x-3}}{2x+7}$.

Решение

Прямая $x = -7/2$ - вертикальная асимптота. Используя правило Лопиталю, имеем:

$$\lim_{x \rightarrow +\infty} \frac{e^{x-3}}{2x+7} = +\infty; \quad \lim_{x \rightarrow -\infty} \frac{e^{x-3}}{2x+7} = 0.$$

Функция имеет положительный знак при $x > -7/2$ и отрицательна при $x < -7/2$. Этих данных достаточно, чтобы нарисовать эскиз графика.

Вычислим производные и уточним положение экстремумов и точек перегиба:

$$y' = \frac{2x + 5}{(2x + 7)^2} \cdot e^{x-3}; \quad y'' = \frac{(4x^2 + 20x + 29)}{(2x + 7)^3} \cdot e^{x-3}.$$

Вторая производная нулей не имеет и меняет знак при переходе через вертикальную асимптоту. Точка $x = -5/2$ - минимум. График функции приведен на рис.3.

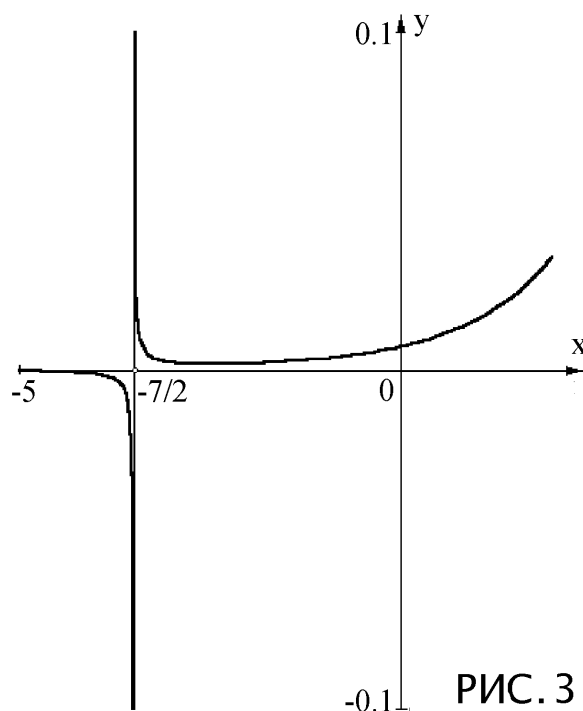


РИС. 3

Пример 19

Построить линию, заданную уравнением в полярных координатах:

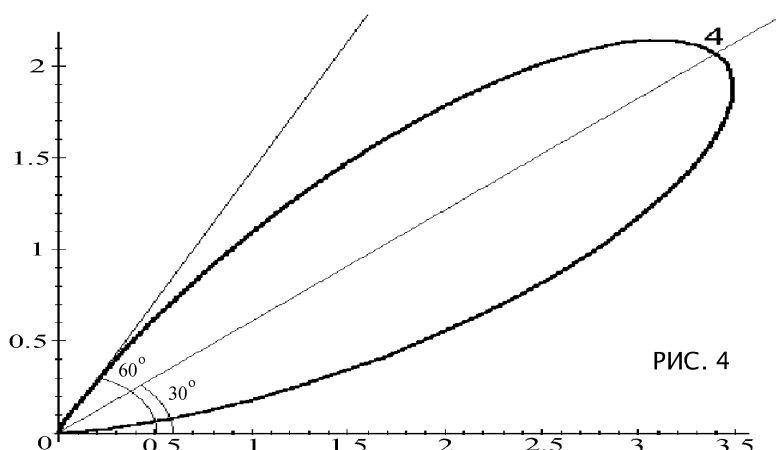
$$\rho = 4 \sin^2 3\varphi.$$

Решение

Используя свойства тригонометрических функций, имеем

$$\rho = 2(1 - \cos 6\varphi).$$

Следовательно, период функции равен $2\pi/6 = 60^\circ$. При возрастании угла от 0° до 30° значения функции возрастают от 0 до 4. При дальнейшем увеличении угла до 60° значения функции убывают до 0. На рис. 4 приведен график одного лепестка. Всего таких лепестков будет 6 (на рисунке они не указаны):



Задачи 16,17

Вычислить приближенное значение функции. При решении этих задач следует использовать приближенную формулу

$$y(x_1) \approx y(x_0) + y'(x_0)(x_1 - x_0) \quad (7)$$

В некоторых вариантах указанных задач потребуются приближенные значения следующих логарифмов: $\ln 3 \approx 1,099$; $\ln 4 \approx 1,386$; $\ln 5 \approx 1,609$; $\ln 6 \approx 1,792$.

Пример 20

Вычислить приближенно $\sqrt[7]{130}$.

Решение

Положим $y(x) = \sqrt[7]{x}$; $x_0 = 128$; $x_1 = 130$. Имеем $y(x_0) = \sqrt[7]{128} = 2$; $y'(x) = (x^{-6/7})/7$; $y'(x_0) = (128^{-6/7})/7 = 1/448$. Наконец, по формуле (7) находим:

$$y(x_1) = \sqrt[7]{130} \approx 2 + \frac{1}{448} \cdot (130 - 128) = 2 + \frac{1}{224} \approx 2,004.$$

Пример 21

Вычислить приближенно $\operatorname{ctg} 48^\circ$.

Решение

Рассмотрим функцию $y(x) = \operatorname{ctg} x$. Перейдем к безразмерной переменной – от градусов к радианам. Выберем, соответственно, $x_0 = 45^\circ = \pi/4$; $x_1 = 48^\circ = 48\pi/180$. Найдём значения функции и её производной:

$$y(x_0) = \operatorname{ctg} \left(\frac{\pi}{4} \right) = 1; \quad y'(x) = -\frac{1}{\sin^2 x}; \quad y'(x_0) = -\frac{1}{\sin^2 \pi/4} = -2.$$

Используя формулу для приближенных вычислений, получим:

$$\operatorname{ctg} 48^\circ = \operatorname{ctg} \frac{48\pi}{180} \approx 1 - 2 \left(\frac{48\pi}{180} - \frac{\pi}{4} \right) = 1 - \frac{\pi}{30} \approx 0,9.$$

Задачи 18, 19

Вычислить частные производные. Эти задачи являются стандартными. При нахождении частной производной $\partial z/\partial x$ следует считать переменную y константой; аналогично при нахождении $\partial z/\partial y$ следует считать переменную x константой. Смешанные производные второго порядка определяются как повторные производные:

$$\frac{\partial^2 z}{\partial y \partial x} = \frac{\partial}{\partial y} \left(\frac{\partial z}{\partial x} \right); \quad \frac{\partial^2 z}{\partial x \partial y} = \frac{\partial}{\partial x} \left(\frac{\partial z}{\partial y} \right).$$

При некоторых предположениях относительно функции $z(x, y)$ можно утверждать, что результат не зависит от порядка дифференцирования:

$$\frac{\partial^2 z}{\partial y \partial x} = \frac{\partial^2 z}{\partial x \partial y}. \quad (8)$$

Пример 22

Для функции $z = \ln \left(1 + \frac{x^2}{y^3} \right)$ вычислить смешанные производные $\partial^2 z/\partial y \partial x$, $\partial^2 z/\partial x \partial y$ и убедиться, что они равны.

Решение

Вычисляем первые производные:

$$\frac{\partial z}{\partial x} = \frac{1}{1 + x^2/y^3} \cdot \frac{2x}{y^3} = \frac{2x}{x^2 + y^3}; \quad \frac{\partial z}{\partial y} = \frac{1}{1 + x^2/y^3} \cdot \frac{-3x^2}{y^4} = \frac{-3x^2}{y(x^2 + y^3)}.$$

Дифференцируя первое равенство по y , а второе – по x , находим смешанные производные:

$$\frac{\partial^2 z}{\partial y \partial x} = -\frac{2x}{(x^2 + y^3)^2} \cdot 3y^2 = -\frac{6xy^2}{(x^2 + y^3)^2}.$$

$$\frac{\partial^2 z}{\partial x \partial y} = -\frac{6x}{y(x^2 + y^3)} + \frac{3x^2}{y(x^2 + y^3)^2} \cdot 2x = \frac{-6xy^2}{(x^2 + y^3)^2}.$$

Убеждаемся, что равенство (8) выполнено.

Задача 20

Найти и исследовать точки экстремума функции нескольких переменных. Сначала из условия равенства нулю первых производных ищутся стационарные точки. Затем в этих точках вычисляем вторые производные и составляем из них матрицу. Находим угловые миноры; достаточным условием максимума является выполнение условий $\Delta_1 < 0$, $\Delta_2 > 0$, $\Delta_3 < 0$, минимума - $\Delta_1 > 0$, $\Delta_2 > 0$, $\Delta_3 > 0$.

Пример 23

Найти и исследовать точки экстремума функции
 $u(x, y, z) = 5x^2 + y^2 + z^2 - 2xy + 2xz - yz - y$.

Решение

Найдем стационарные точки из условия

$$\begin{cases} \partial u / \partial x = 10x - 2y + 2z = 0 \\ \partial u / \partial y = 2y - 2x - z - 1 = 0 \\ \partial u / \partial z = 2z + 2x - y = 0 \end{cases}$$

Решая получившуюся систему уравнений, получим координаты стационарной точки $M_0(x_0, y_0, z_0)$, $x_0 = 1/11$, $y_0 = 8/11$, $z_0 = 3/11$. В M_0 выполнено необходимое условие экстремума. Проверим выполнение достаточного условия экстремума. Применим критерий Сильвестра. Вычислим в M_0 вторые производные

$$\frac{\partial^2 u}{\partial x^2} = 10, \quad \frac{\partial^2 u}{\partial y^2} = 2, \quad \frac{\partial^2 u}{\partial z^2} = 2, \quad \frac{\partial^2 u}{\partial x \partial y} = -2, \quad \frac{\partial^2 u}{\partial x \partial z} = 2, \quad \frac{\partial^2 u}{\partial y \partial z} = -1,$$

и составим из них матрицу $A = \|a_{ij}\|$,

$$A = \begin{pmatrix} 10 & -2 & 2 \\ -2 & 2 & -1 \\ 2 & -1 & 2 \end{pmatrix}.$$

Угловые миноры матрицы A

$$\Delta_1 = a_{11} = 10, \quad \Delta_2 = \begin{vmatrix} a_{11} & a_{12} \\ a_{21} & a_{22} \end{vmatrix} = \begin{vmatrix} 10 & -2 \\ -2 & 2 \end{vmatrix} = 16, \quad \Delta_3 = \det A = 22.$$

Т.к. $\Delta_1 > 0$, $\Delta_2 > 0$, $\Delta_3 > 0$, то в точке M_0 функция $u(x, y, z)$ имеет локальный минимум.

ПРАКТИЧЕСКИЕ ЗАДАНИЯ

ЗАДАЧА 1. С помощью определения предела последовательности показать, что данная последовательность u_n при $n \rightarrow \infty$ имеет своим пределом число A . Найти целое значение N , начиная с которого $|u_n - A| < \varepsilon$.

N°	u_n	A	ε	N°	u_n	A	ε
1	$\frac{7n-1}{n+1}$	7	10^{-2}	16	$\frac{2n}{1+n^2}$	0	10^{-1}
2	$\frac{4n^2+1}{3n^2+2}$	$\frac{4}{3}$	10^{-2}	17	$\frac{3n^3}{n^3-2}$	3	10^{-2}
3	$\frac{9-n^3}{1+2n^3}$	$-\frac{1}{2}$	10^{-2}	18	$\frac{4+2n}{1-3n}$	$-\frac{2}{3}$	10^{-2}
4	$\left(-\frac{1}{2}\right)^n$	0	10^{-3}	19	$\frac{5n+15}{6+n}$	5	10^{-2}
5	$1 + \frac{(-1)^n}{2n+1}$	1	10^{-2}	20	$\frac{3-n^2}{1+2n^2}$	$-\frac{1}{2}$	10^{-2}
6	$\frac{4n-3}{2n+1}$	2	10^{-3}	21	$\frac{7-n}{n+3}$	-1	10^{-2}
7	$\frac{1-2n^2}{2+4n^2}$	$-\frac{1}{2}$	10^{-2}	22	$\frac{3n^2+4}{2-n^2}$	-3	10^{-2}
8	$\frac{2n+(-1)^n}{n}$	2	10^{-2}	23	$-\frac{5+4n^3}{3+2n^3}$	-2	10^{-2}
9	$-\frac{5n}{n+1}$	-5	10^{-2}	24	$\left(\frac{1}{3}\right)^{2n}$	0	10^{-3}
10	$\frac{1}{\ln(n+1)}$	0	$\frac{1}{3}$	25	$3 - \frac{(-1)^n}{n+5}$	3	10^{-2}
11	$\frac{n+1}{1-2n}$	$-\frac{1}{2}$	10^{-2}	26	$\frac{9n+7}{2n-3}$	$\frac{9}{2}$	10^{-2}
12	$\frac{2n+1}{3n-5}$	$\frac{2}{3}$	10^{-2}	27	$\frac{2+n^2}{4+2n^2}$	$\frac{1}{2}$	10^{-2}
13	$\frac{1-2n^2}{n^2+3}$	-2	10^{-2}	28	$\frac{-5n+(-1)^n}{2n+3}$	$-\frac{5}{2}$	10^{-2}
14	$\frac{3n^2}{2-n^2}$	-3	10^{-2}	29	$\frac{2}{\ln(3n+4)}$	0	$\frac{1}{4}$
15	$\frac{n}{3n-1}$	$\frac{1}{3}$	10^{-2}	30	$\left(-\frac{2}{7}\right)^n$	0	10^{-3}

ЗАДАЧА 2. Вычислить предел.

1	$\lim_{x \rightarrow 0} \frac{\operatorname{tg}^2 x - \sin^2 x}{(1 - \cos x)^2}$	2	$\lim_{x \rightarrow \pi/2} (\sin x)^{\operatorname{tg}^2 x}$
3	$\lim_{x \rightarrow 0} \frac{\operatorname{tg} 2x - 2 \operatorname{tg} x}{\sin 2x - 2 \sin x}$	4	$\lim_{x \rightarrow 0} \left(\frac{\cos x}{\cos 2x} \right)^{1/x^2}$
5	$\lim_{x \rightarrow 0} \frac{4 \operatorname{tg} x - \sin 4x}{\operatorname{tg} x - \sin x}$	6	$\lim_{x \rightarrow \pi/4} (\operatorname{tg} x)^{\operatorname{tg} 2x}$
7	$\lim_{x \rightarrow 0} \frac{\operatorname{tg} 2x - 2 \sin x}{x^3}$	8	$\lim_{x \rightarrow \infty} \left(\frac{2x - 1}{2x + 3} \right)^x$
9	$\lim_{x \rightarrow \pi/4} \frac{\operatorname{tg} x - \operatorname{ctg} x}{\pi/4 - x}$	10	$\lim_{x \rightarrow \pi/2} (2 - \sin x)^{\operatorname{tg}^2 x}$
11	$\lim_{x \rightarrow \pi/4} (\cos x - \sin x) \operatorname{tg} 2x$	12	$\lim_{x \rightarrow 0} (3^x + x)^{1/x}$
13	$\lim_{x \rightarrow -\pi/4} \frac{\operatorname{tg} x - \operatorname{ctg} x}{\pi/4 + x}$	14	$\lim_{x \rightarrow 0} (2 \cos x - 1)^{\operatorname{ctg}^2 x}$
15	$\lim_{x \rightarrow \pi/6} \frac{1 - 2 \sin x}{1 - 2 \cos 2x}$	16	$\lim_{x \rightarrow \infty} \left(\frac{3x + 2}{3x + 1} \right)^x$
17	$\lim_{x \rightarrow \pi/6} \frac{\sin x - \cos 2x}{\pi/6 - x}$	18	$\lim_{x \rightarrow 0} \left(\operatorname{tg} \left(\frac{\pi}{4} + x \right) \right)^{\operatorname{ctg} x}$
19	$\lim_{x \rightarrow \pi/3} \frac{1 - 2 \cos x}{\pi - 3x}$	20	$\lim_{x \rightarrow 0} \left(\frac{1 + \operatorname{tg} x}{1 + \sin x} \right)^{1/x^3}$
21	$\lim_{x \rightarrow \pi/2} (1 - \sin x) \operatorname{tg}^2 x$	22	$\lim_{x \rightarrow 0} (2 - \cos x)^{1/\sin x}$
23	$\lim_{x \rightarrow \pi/3} \frac{\sqrt{3} - 2 \sin x}{\pi/3 - x}$	24	$\lim_{x \rightarrow \infty} \left(\frac{x^2 + 2x + 1}{x^2 + 2x - 2} \right)^{x^2}$
25	$\lim_{x \rightarrow \pi/4} \frac{1 - \sin 2x}{(1 - \sqrt{2} \sin x)^2}$	26	$\lim_{x \rightarrow \pi/4} (2 - \operatorname{tg}^2 x)^{\frac{1}{x - \pi/4}}$
27	$\lim_{x \rightarrow \pi/2} (\sec x - \operatorname{tg} x)$	28	$\lim_{x \rightarrow 0} \left(\frac{3x^2 + 2x + 1}{3x^2 + 2x - 1} \right)^x$
29	$\lim_{x \rightarrow 0} \left(\frac{1 + 2x}{1 + \sin x} \right)^{2/x}$	30	$\lim_{x \rightarrow 0} (\cos x)^{1/x^2}$

ЗАДАЧА 3. Вычислить производную $y'(x)$.

№	$y(x)$	№	$y(x)$
1	$\ln \left(\cos \left(\frac{x-1}{x} \right) \right)$	16	$\arcsin \left(\frac{\sqrt{x}}{2} \right)$
2	$x \sin \left(\ln x - \frac{\pi}{4} \right)$	17	$\operatorname{arctg} (e^x + e^{-x})$
3	$\operatorname{arctg} \left(\ln \left(\frac{1}{x} \right) \right)$	18	$\arcsin \sqrt{x-1}$
4	$\frac{x}{\ln^2 x}$	19	$\operatorname{arctg} \sqrt{\frac{x-1}{2}}$
5	$\ln (\ln (3 - 2x^3))$	20	$\operatorname{tg}^2 \sqrt{3x}$
6	$2^{\operatorname{ctg} (1/x)}$	21	$\frac{\operatorname{tg}^2 x}{2} + \ln (\cos x)$
7	$\sqrt{e^{\sin^2 x}}$	22	$\ln(\sin x) + \frac{\operatorname{ctg}^2 x}{2} - \frac{\operatorname{ctg}^4 x}{4}$
8	$\sqrt{\cos^2 x - 2 \sin^2 x}$	23	$\frac{2}{3}(\ln x - 5)\sqrt{1 + \ln x}$
9	$\sqrt{3 \sin^2 x + 5 \cos^2 x}$	24	$\frac{2}{\sqrt{3}} \operatorname{arctg} \frac{2x+1}{\sqrt{3}}$
10	$\frac{\cos^3 x}{15}(3 \cos^2 x - 5)$	25	$\ln^3(2x + \sqrt{3})$
11	$\frac{x^2}{\ln x}$	26	$\sqrt[3]{x + \sqrt{x}}$
12	$\frac{1 + \sqrt{x}}{1 - \sqrt{x}}$	27	$\frac{1 + \cos 2x}{1 - \cos 2x}$
13	$\frac{3}{4} \sqrt[3]{(1 + \ln x)^4}$	28	$\ln(\sin x) + \frac{1}{2} \operatorname{ctg}^2 x$
14	$\frac{1}{3} \operatorname{arctg}(3 \operatorname{tg} x)$	29	$\frac{\operatorname{tg}^5 x}{5} + \frac{\operatorname{tg}^7 x}{7}$
15	$e^{\operatorname{tg}^2(3x)}$	30	$\frac{1}{2} \arcsin \frac{x^2}{\sqrt{3}}$

ЗАДАЧА 4. Вычислить производную $y'(x)$.

№	$y(x)$	№	$y(x)$
1	$\frac{1+2x^2}{x\sqrt{1+x^2}}$	16	$\frac{\sqrt[3]{1+x^3}}{x^2}(x^2-3)$
2	$\frac{\sqrt{1+x^2}}{3}(x^2-2)$	17	$\frac{1}{\sqrt{2}} \ln \frac{\sqrt{2+2x}-\sqrt{2-x}}{\sqrt{2+2x}+\sqrt{2-x}}$
3	$\frac{\sqrt{1+x^2}}{3x^3}(2x^2-1)$	18	$\frac{1}{3} \operatorname{arctg} \left(\frac{5 \operatorname{tg} x + 4}{3} \right)$
4	$\operatorname{arctg} \left(\frac{x}{2} + \sqrt{\frac{x^2}{4} + x - 1} \right)$	19	$\frac{1}{2} \arcsin \frac{8x+3}{\sqrt{41}}$
5	$\frac{1}{\sqrt{3}} \ln \left(\sqrt{3}x + \sqrt{3x^2-2} \right)$	20	$\ln \sqrt[3]{\frac{x+2}{\cos^2 x}}$
6	$\frac{2}{35}(1+x)^{5/2}(5x-2)$	21	$\ln \sqrt{\frac{1+x}{\operatorname{tg} x}}$
7	$(1+2x^2)^{5/2} \cdot \frac{5x^2-1}{70}$	22	$\operatorname{arctg}^2 \frac{1}{\sqrt{2x}}$
8	$\frac{x-2}{4\sqrt{4x-x^2}}$	23	$\ln \sqrt[4]{\frac{1+4x}{\sin^3 x}}$
9	$\ln \left(x + \frac{1}{2} + \sqrt{x^2+x+1} \right)$	24	$\arcsin \frac{x-1}{\sqrt{x}}$
10	$\frac{2}{15}(3x-4)(2+x)^{3/2}$	25	$\ln 5(1+3 \operatorname{tg} x)$
11	$\frac{4}{3} \left(\sqrt[4]{x^3} - \ln \left(1 + \sqrt[4]{x^3} \right) \right)$	26	$\ln \left(\frac{(x-2)^5}{(x+1)^3} \right)$
12	$\ln \frac{\sqrt{x+1}-1}{\sqrt{x+1}+1}$	27	$\frac{2(10+3x)}{9\sqrt{5+3x}}$
13	$\frac{3x-9}{10} \sqrt[3]{(x+2)^2}$	28	$\frac{4}{21}(3e^x-4)(e^x+1)^{3/4}$
14	$\frac{20x+32}{45}(x-2)\sqrt[4]{x-2}$	29	$2\sqrt{x+1}(\ln(x+1)-2)$
15	$\frac{1}{\sqrt{2}} \ln \frac{\sqrt{x^2-x+2}+x-\sqrt{2}}{\sqrt{x^2-x+2}+x+\sqrt{2}}$	30	$\frac{1}{24} \ln \frac{x^3}{x^3+8}$

ЗАДАЧА 5. Вычислить логарифмическую производную $y'(x)$.

№	$y(x)$	№	$y(x)$	№	$y(x)$
1	$\frac{x\sqrt{x^2+1}}{\sqrt[3]{x^3+1}}$	11	$(\operatorname{arctg} x)^x$	21	$x^{1/x}$
2	$x\sqrt[3]{\frac{x^2}{x^2+1}}$	12	$(\sin 3x)^x$	22	$\sqrt{\cos x} \cdot 2\sqrt{\cos x}$
3	$\frac{x-1}{\sqrt{x(2-x)}}$	13	$\frac{\sqrt{x-1}}{\sqrt[3]{(x+2)^2}\sqrt{(x+3)^3}}$	23	$(\operatorname{arctg} x)^{\ln x}$
4	$x^{\cos x}$	14	$\frac{(x-2)^3}{\sqrt{(x-1)^5(x-3)^{11}}}$	24	$(\sin x)^{\ln x}$
5	$(\sin x)^{1/x}$	15	$\sqrt{\frac{x(x-1)}{x-2}}$	25	$(1+x^2)^{\arccos x}$
6	$x^{\operatorname{tg} x}$	16	$(\operatorname{tg} x)^{e^x}$	26	$\sqrt[4]{x^3}\sqrt[3]{x^2(x+1)}$
7	$(\operatorname{tg} x)^{\cos x}$	17	$(\ln \sin 3x)^x$	27	$\frac{\sqrt[4]{x^2+3x+1}}{\sqrt[3]{x^2+4}}$
8	$(\arcsin x)^{x^2}$	18	$(1+x^3)^{x^3}$	28	$(x^2+1)^{\sqrt{x}}$
9	$(1+x^2)^{x^2}$	19	$(\cos x)^{\sin x}$	29	$x^6(x^2+1)^{10}(x^3+1)$
10	$(\cos x)^x$	20	$x\sqrt{x}$	30	$\frac{3}{2}\sqrt[3]{\frac{1+x}{1-x}}$

ЗАДАЧА 6. Вычислить производную $y'(x)$ функции, заданной параметрически.

№	$x(t), y(t)$	№	$x(t), y(t)$	№	$x(t), y(t)$
1	$\begin{cases} x = \frac{2 \sin t}{1 + 3 \cos t} \\ y = \frac{5 \cos t}{1 + 3 \cos t} \end{cases}$	11	$\begin{cases} x = \frac{1}{t^2 - 1} \\ y = \frac{t^2 + 1}{t + 2} \end{cases}$	21	$\begin{cases} x = 2t - t^3 \\ y = 2t^2 \end{cases}$
2	$\begin{cases} x = \ln(1 + t^2) \\ y = t - \operatorname{arctg} t \end{cases}$	12	$\begin{cases} x = \frac{6t}{1 + t^3} \\ y = \frac{6t^2}{1 + t^3} \end{cases}$	22	$\begin{cases} x = \frac{\cos^3 t}{\sqrt{\cos 2t}} \\ y = \frac{\sin^3 t}{\sqrt{\cos 2t}} \end{cases}$

N°	$x(t), y(t)$	N°	$x(t), y(t)$	N°	$x(t), y(t)$
3	$\begin{cases} x = e^{-t^2} \\ y = \operatorname{arctg}(2t + 1) \end{cases}$	13	$\begin{cases} x = \sqrt{t} \\ y = \sqrt[3]{t} \end{cases}$	23	$\begin{cases} x = \frac{t^3 + 2}{t^2 + 1} \\ y = \frac{t^3}{t^2 + 1} \end{cases}$
4	$\begin{cases} x = 4 \operatorname{tg}^2\left(\frac{t}{2}\right) \\ y = 2 \sin t + 3 \cos t \end{cases}$	14	$\begin{cases} x = e^t \\ y = \arcsin t \end{cases}$	24	$\begin{cases} x = t^2 e^{-t} \\ y = t^2 e^{-2t} \end{cases}$
5	$\begin{cases} x = \arcsin(t^2 - 1) \\ y = \arccos 2t \end{cases}$	15	$\begin{cases} x = 2 \cos^2 t \\ y = 3 \sin^2 t \end{cases}$	25	$\begin{cases} x = 2\left(t + \frac{1}{t}\right) \\ y = t + \frac{3}{t} + \frac{1}{t^2} \end{cases}$
6	$\begin{cases} x = 5(\cos t + t \sin t) \\ y = 5(\sin t - t \cos t) \end{cases}$	16	$\begin{cases} x = \ln t \\ y = \frac{1}{2}\left(t + \frac{1}{t}\right) \end{cases}$	26	$\begin{cases} x = \ln t \\ y = \sin^2 t \end{cases}$
7	$\begin{cases} x = \arccos \frac{1}{\sqrt{1+t^2}} \\ y = \arcsin \frac{t}{\sqrt{1+t^2}} \end{cases}$	17	$\begin{cases} x = \frac{6t}{1+t^2} \\ y = \frac{3(1-t^2)}{1+t^2} \end{cases}$	27	$\begin{cases} x = e^t \cos t \\ y = e^t \sin t \end{cases}$
8	$\begin{cases} x = \ln \operatorname{tg}\left(\frac{t}{2}\right) + \cos t \\ y = t \sin t + \cos t \end{cases}$	18	$\begin{cases} x = \sqrt{1+t^2} \\ y = \frac{t-1}{\sqrt{1+t^2}} \end{cases}$	28	$\begin{cases} x = \frac{1}{t+1} \\ y = \left(\frac{t}{t+1}\right)^2 \end{cases}$
9	$\begin{cases} x = t^2 + 2t \\ y = t^2 - \ln t^2 \end{cases}$	19	$\begin{cases} x = \arcsin t \\ y = \sqrt{1-t^2} \end{cases}$	29	$\begin{cases} x = \frac{1}{t+1} \\ y = \frac{t}{t+1} \end{cases}$
10	$\begin{cases} x = \frac{t^3}{t+1} \\ y = \frac{t^2}{t+1} \end{cases}$	20	$\begin{cases} x = 5 \cos^3 t \\ y = 4 \sin^3 t \end{cases}$	30	$\begin{cases} x = t + \ln \cos t \\ y = t - \ln \sin t \end{cases}$

ЗАДАЧА 7. Вычислить производную $y'(x)$ функции, заданной неявно уравнением $F(x, y) = 0$.

№	$F(x, y)$	№	$F(x, y)$
1	$\ln x + e^{-y/x} + 5$	16	$x - \sqrt[3]{y^3 + x} - 4$
2	$x^{2/3} + y^{2/3} - 10$	17	$y^3 - \frac{x - y}{x + y} - 6$
3	$y - \sqrt{4x - x^2 + 10y} - 4 + 3$	18	$ye^x - 1 - e^y + 9$
4	$e^x - e^y + x - y - 6$	19	$y^2 - x - \ln \frac{y}{x} - 4$
5	$x - \sqrt[3]{2x^2y^2 + 5x + y} - 5 + 9$	20	$x + y - 3\sqrt[3]{x - y} + 11$
6	$\frac{3}{\sqrt{xy}} - \sqrt{\frac{x}{y}} - \sqrt{\frac{y}{x}} - 8 = 0$	21	$y - \sqrt[3]{x + 10y} - 6 + \frac{4y + 5}{x}$
7	$\operatorname{arctg} \frac{y}{x} - \ln \sqrt{x^2 + y^2} + 2$	22	$x - \sqrt{2y^3 - \frac{x^2}{y} + \frac{y}{x}} - 3$
8	$e^x - e^y - xy$	23	$x - \sqrt{1 + 2xy + y^2 - 8y^3} + 3$
9	$y - \sqrt{2x - x^2 - 5xy} - y$	24	$\frac{x}{y} - \frac{\sin x}{\sin y} + 3$
10	$2 \cos^2(x + y) + xy - 9$	25	$\sqrt{x + y} - y\sqrt{x - y} - 7$
11	$3 \operatorname{arctg} \frac{y}{x} - \sqrt{x^2 + y^2} + 5$	26	$\ln(x + y) - \frac{8}{\sqrt{x + y^2}}$
12	$\ln 5y + \frac{x}{y} + 7$	27	$\sin(y - x^2) - \ln(y^2 - x)$
13	$x - \operatorname{arctg}(x + y) + 1$	28	$e^x + e^y - 2^{xy} - 2$
14	$y - \sqrt[3]{\frac{2y - 1}{x}} + 12$	29	$xy^2 + y^2 \ln x - 4$
15	$e^x \sin y - e^{-y} \cos x$	30	$x^2 \sin y + y^3 \cos x - 2x$

ЗАДАЧА 8. Найти предел, используя правило Лопиталя.

1	$\lim_{x \rightarrow 1} \frac{e^{\ln x} - \ln(x + e - 1)}{\operatorname{arctg} 2(x - 1)}$	16	$\lim_{x \rightarrow 0} \frac{\ln(2 - \cos 2x)}{x^2}$
2	$\lim_{x \rightarrow 1} \frac{\cos\left(\frac{\pi}{2} \cdot e^x - 1\right)}{e^{\sin(1-x)} - 1}$	17	$\lim_{x \rightarrow 0} \frac{5 \operatorname{tg} 3x - 1}{2 \sin(x/2) - 1}$
3	$\lim_{x \rightarrow 2} \frac{\ln(\sqrt{1 + 4x} - 2)}{x - 2}$	18	$\lim_{x \rightarrow 0} \frac{\ln(3 + x^2) - \ln 3}{1 - \cos 5x}$
4	$\lim_{x \rightarrow \pi/4} \frac{\ln \operatorname{tg} x}{\pi/4 - x}$	19	$\lim_{x \rightarrow 0} \frac{\sqrt{1 - \operatorname{tg} 8x} - 1}{\ln(1 + \sin x)}$
5	$\lim_{x \rightarrow 0} \frac{1}{x} \ln\left(\frac{1}{\sqrt[3]{8+x}} + \frac{1}{\sqrt{4+x}}\right)$	20	$\lim_{x \rightarrow 0} \frac{e^{3x^2} - e^{x^2}}{1 - \cos x}$
6	$\lim_{x \rightarrow 3} \frac{\ln(\sqrt[3]{2x+2} - 1)}{\ln(\sqrt{x+1} - 1)}$	21	$\lim_{x \rightarrow 1} \frac{\operatorname{tg} \pi x}{4^x - 4}$
7	$\lim_{x \rightarrow 0} \frac{\ln(1 - \operatorname{arctg} 5x)}{\sin 3x}$	22	$\lim_{x \rightarrow 0} \frac{1 - e^{\sin x}}{1 - 2 \operatorname{tg} x}$
8	$\lim_{x \rightarrow 0} \frac{e^{\operatorname{tg} x} - 1 - x}{x^2}$	23	$\lim_{x \rightarrow 0} \frac{\ln(3 - 2 \cos x)}{\sqrt{1 + \operatorname{tg}^2 x} - 1}$
9	$\lim_{x \rightarrow 0} \frac{e^{x^2} - \cos x}{x^2}$	24	$\lim_{x \rightarrow 0} \frac{\sqrt{2 - \cos x} - 1}{2 \arcsin x - 1}$
10	$\lim_{x \rightarrow 0} \frac{e^{1/\cos x} - e^{\cos x}}{\ln \cos x}$	25	$\lim_{x \rightarrow 0} \frac{\sin^2(x/2)}{\ln(1 + 2x^2)}$
11	$\lim_{x \rightarrow 0} \frac{3^x - 2^x}{\ln(\sqrt{9+x} - \sqrt{4+x})}$	26	$\lim_{x \rightarrow \pi/2} \frac{\ln \sin x}{\sin^2(\pi/2 - x)}$
12	$\lim_{x \rightarrow 2} \frac{2^x - x^2}{2 - x}$	27	$\lim_{x \rightarrow \pi/4} \frac{\ln \operatorname{tg} x}{1 - \operatorname{ctg} x}$
13	$\lim_{x \rightarrow 0} \frac{\ln \cos 2x}{\ln \cos 3x}$	28	$\lim_{x \rightarrow 0} \frac{\ln(1 - \operatorname{tg}^2(x/5))}{\sqrt{1 + \sin^2 3x} - 1}$
14	$\lim_{x \rightarrow \pi/4} \frac{e^{\sin x} - e^{\cos x}}{\pi - 4x}$	29	$\lim_{x \rightarrow 0} \frac{3^{3x} - 3^{-x}}{e^{\operatorname{tg} x} - 1}$
15	$\lim_{x \rightarrow 0} \frac{1 - e^{-\operatorname{tg} x}}{\sin 2x}$	30	$\lim_{x \rightarrow 0} \frac{e^{2x} - e^{-3x}}{\operatorname{tg} 6x}$

ЗАДАЧА 9. Найти предел, используя правило Лопиталя.

1	$\lim_{x \rightarrow 0} \left(\frac{1}{x^2} - \operatorname{ctg}^2 x \right)$	16	$\lim_{x \rightarrow \infty} \frac{\pi - 2 \operatorname{arctg} x}{e^{3/x} - 1}$
2	$\lim_{x \rightarrow 0} \frac{\pi/x}{\operatorname{ctg}(\pi x/2)}$	17	$\lim_{x \rightarrow 3} \frac{\ln(x-3)}{e^x - e^3}$
3	$\lim_{x \rightarrow 0} \frac{e^x - e^{-x}}{\ln(1+x)}$	18	$\lim_{x \rightarrow 0} \frac{e^{3x} - 3x - 1}{\sin^2 5x}$
4	$\lim_{x \rightarrow 0} \frac{x^3}{x - \sin x}$	19	$\lim_{x \rightarrow 0} (\cos 2x)^{3/x^2}$
5	$\lim_{x \rightarrow \pi/2} \left(\frac{x}{\operatorname{ctg} x} - \frac{\pi}{2 \cos x} \right)$	20	$\lim_{x \rightarrow 0} \frac{x^2 + 2 \cos x - 2}{x^4}$
6	$\lim_{x \rightarrow 0} \frac{(e^x - e^{-x}) \sin x}{x^2}$	21	$\lim_{x \rightarrow +\infty} \frac{\ln(1+x^2)}{\ln(\pi/2 - \operatorname{arctg} x)}$
7	$\lim_{x \rightarrow 0} (1 + \sin^2 x)^{1/\operatorname{tg}^2 x}$	22	$\lim_{x \rightarrow +\infty} (\ln 2x)^{1/\ln x}$
8	$\lim_{x \rightarrow +0} (\ln(x+e))^{1/x}$	23	$\lim_{x \rightarrow 0} \frac{1 + 2x + 2x^2 - e^{2x}}{x^3}$
9	$\lim_{x \rightarrow \pi/4} \frac{\sec^2 x - 2 \operatorname{tg} x}{1 + \cos 4x}$	24	$\lim_{x \rightarrow 1} (1-x) \operatorname{tg}(\pi x/2)$
10	$\lim_{x \rightarrow 1} \left(\frac{1}{2 - 2\sqrt{x}} - \frac{1}{3 - 3\sqrt[3]{x}} \right)$	25	$\lim_{x \rightarrow +\infty} (x + 2^x)^{1/x}$
11	$\lim_{x \rightarrow +0} \frac{\ln(1+x)^{(1+x)} - x}{x^2}$	26	$\lim_{x \rightarrow 0} \frac{2^x + 2^{-x} - 2}{x^2}$
12	$\lim_{x \rightarrow 1-0} (1-x)^{\cos(\pi x/2)}$	27	$\lim_{x \rightarrow 0} \frac{\sqrt{1-2x} + x - 1}{x^2}$
13	$\lim_{x \rightarrow \pi/2-0} (\pi - 2x)^{\cos x}$	28	$\lim_{x \rightarrow 0} (x \operatorname{ctg} x)^{-1/x^2}$
14	$\lim_{x \rightarrow 1} (\operatorname{tg}(\pi x/4))^{\operatorname{tg}(\pi x/2)}$	29	$\lim_{x \rightarrow +0} (\operatorname{ctg} x)^{1/\ln x}$
15	$\lim_{x \rightarrow 0} \frac{3x^2 + \sin 3x - 3xe^x}{\operatorname{arctg} x - \sin x}$	30	$\lim_{x \rightarrow +0} \frac{\ln x}{1 + 2 \ln \sin x}$

ЗАДАЧА 10. Функцию $y = f(x)$ разложить по формуле Тейлора в окрестности точки x_0 до $o((x - x_0)^n)$.

№	$f(x)$	x_0	n	№	$f(x)$	x_0	n
1	$\frac{2x + 3}{4x - 5}$	2	4	16	$\cos^2(2x + 6)$	-4	5
2	$(x + 2) \ln(3x - 7)$	3	4	17	$(x + 2)\sqrt{3x + 4}$	4	4
3	$\sin^2(2x + 1)$	-1	5	18	$(x - 7)e^{4x - 2}$	1	5
4	$(x - 2) \cos(x - 3)$	2	5	19	$\frac{3x + 2}{x - 6}$	5	4
5	$\sqrt[3]{3x + 5}$	1	4	20	$(2x - 9) \ln(4x + 1)$	1	4
6	$(2x + 5)e^{2x + 3}$	-2	4	21	$\sin^2(3x - 2)$	2	5
7	$\frac{3x - 4}{x - 5}$	2	4	22	$(3x + 4) \cos(2x - 1)$	3	5
8	$(x^2 + x) \ln(2x + 1)$	0	5	23	$\sqrt[3]{2x - 5}$	16	4
9	$\sin(4x - 3)$	1	5	24	$(2x^2 + 5) e^{3x - 2}$	1	5
10	$\cos^2(x + 2)$	-1	5	25	$\frac{x^2 - 4}{2x + 1}$	-1	4
11	$\sqrt[4]{4x + 12}$	1	4	26	$(x^2 + 7x) \ln(4x + 3)$	1	4
12	$(x + 2)e^{x^2 + 2x}$	-1	4	27	$(x + 2) \sin(x + 2)$	2	5
13	$\frac{x^2 - 4}{2x + 1}$	2	4	28	$(2x + 1) \cos(3x - 5)$	2	5
14	$x \ln \sqrt[3]{5 - 2x}$	2	4	29	$\sqrt[4]{x + 12}$	4	4
15	$(2x - 3) \sin(x + 3)$	-2	5	30	$(-x + 4)e^{x + 3}$	-2	5

ЗАДАЧА 11. Вычислить предел двумя способами:

- а) используя разложение по формуле Тейлора;
 б) с помощью правила Лопиталья.

1	$\lim_{x \rightarrow 0} \frac{e^x + e^{-x} - 2}{1 - \cos x}$	16	$\lim_{x \rightarrow 0} \frac{\ln(1+x) + x^2/2 - \sin x}{x^3}$
2	$\lim_{x \rightarrow 0} \frac{2e^x - e^{-x} - 3x - 1}{x^2}$	17	$\lim_{x \rightarrow 0} \frac{2x - 1 - 2x^2 + e^{-2x}}{x^3}$
3	$\lim_{x \rightarrow 0} \frac{6 \ln(1+x) - 6x - 2x^3}{e^{-x} + x - 1}$	18	$\lim_{x \rightarrow 0} \frac{x^2}{1 + 3x/2 - \sqrt{1+3x}}$
4	$\lim_{x \rightarrow 0} \frac{\frac{1}{1-x} - \cos x - x}{x^2}$	19	$\lim_{x \rightarrow 0} \frac{x^3}{\ln(1+x) + e^{-x} - 1}$
5	$\lim_{x \rightarrow 0} \frac{(1+x) \ln(x+1) - x}{x^2}$	20	$\lim_{x \rightarrow 0} \frac{\sqrt{1+x} - e^{-x} - 3x/2}{x^2}$
6	$\lim_{x \rightarrow 0} \frac{x^2 + 2 \cos x - 2}{x^4}$	21	$\lim_{x \rightarrow 0} \frac{x^3}{\sin 2x + 2 \ln(1-x) + x^2}$
7	$\lim_{x \rightarrow 0} \frac{e^{2x} - \cos x - 2x}{x^2}$	22	$\lim_{x \rightarrow 0} \frac{\sqrt{1-x^2} + \ln(1+2x) - 1 - 2x}{x^2}$
8	$\lim_{x \rightarrow 0} \frac{\sqrt{1-2x} + x - 1}{1 - \cos x}$	23	$\lim_{x \rightarrow 0} \frac{2x^2 + \ln(1+2x) - 2x}{x^3}$
9	$\lim_{x \rightarrow 0} \frac{e^{2x} - 1 - 2x - 2x^2}{x^3}$	24	$\lim_{x \rightarrow 0} \frac{x^2}{\sqrt{1+2x^2} - e^{-2x} - 2x}$
10	$\lim_{x \rightarrow 0} \frac{x^3}{x^2/2 + \sin x + \ln(1-x)}$	25	$\lim_{x \rightarrow 0} \frac{e^x - e^{-x} - 2x}{x^3}$
11	$\lim_{x \rightarrow 0} \frac{\sqrt{1+3x^2} - e^{-x} - x}{x^2}$	26	$\lim_{x \rightarrow 0} \frac{x^2}{e^{-2x} + 2 \sin x - 1}$
12	$\lim_{x \rightarrow 0} \frac{x^2/2 + x + \ln(1-x)}{2x^3}$	27	$\lim_{x \rightarrow 0} \frac{x^3}{\ln(1-2x) + e^{2x} - 1}$
13	$\lim_{x \rightarrow 0} \frac{x - \sin x}{e^x - 1 - x - x^2/2}$	28	$\lim_{x \rightarrow 0} \frac{x^3}{e^{2x} - e^{-2x} - 4x}$
14	$\lim_{x \rightarrow 0} \frac{x^3}{\ln(1-2x) + 2x + 2x^2}$	29	$\lim_{x \rightarrow 0} \frac{\sqrt{1+x^2} - \ln(1+x) + x - 1}{x^2}$
15	$\lim_{x \rightarrow 0} \frac{x^2}{\sqrt{1-2x^2} - e^x + x}$	30	$\lim_{x \rightarrow 0} \frac{e^x - \sin x - 1 - x^2/2}{x^3}$

ЗАДАЧА 12. Построить график функции $y = \frac{ax^3 + bx^2 + cx + d}{x^2 + px + q}$.

№	a	b	c	d	p	q	№	a	b	c	d	p	q
1	1	1	0	-1	0	-1	16	2	-1	-1	6	1	-6
2	1	2	0	-2	0	-1	17	-2	1	-1	-2	-1	-1
3	1	1	0	-4	0	-4	18	3	3	-3	-6	-1	-2
4	1	1	-3	2	-3	2	19	-3	-4	-4	24	1	-6
5	1	1	-1	-2	-1	-2	20	1	1	1	-2	1	-2
6	-1	0	0	0	2	1	21	-1	2	2	-4	1	-2
7	1	-2	0	0	-2	1	22	-1	-1	-3	-2	3	2
8	-1	0	0	0	2	1	23	2	-1	3	-2	-3	2
9	1	-1	0	0	2	1	24	2	1	-4	3	-4	3
10	1	3	3	1	-2	1	25	-2	-1	2	3	-2	-3
11	-1	2	0	-6	0	-3	26	-2	-4	-8	12	2	-3
12	-2	2	0	-6	0	-3	27	-2	-3	-12	-9	4	3
13	2	-1	0	2	0	-2	28	-2	-2	10	-12	-5	6
14	-3	2	0	-6	0	-3	29	3	4	-4	-24	-1	-6
15	3	-2	0	2	0	-1	30	1	3	15	18	5	6

ЗАДАЧА 13. Построить график функции $y(x)$:

№	$y(x)$	№	$y(x)$	№	$y(x)$	№	$y(x)$
1	$\sqrt[3]{x^2 - 1}$	2	$x\sqrt[3]{x + 3}$	3	$\sqrt[3]{(x^2 - 1)^2}$	4	$x^2\sqrt[3]{x + 1}$
5	$\sqrt[3]{(x^2 - 2)^4}$	6	$x\sqrt[5]{x + 1}$	7	$\sqrt[3]{(x^2 - 1)^5}$	8	$x^2\sqrt[5]{x + 2}$
9	$\sqrt[4]{(x^2 - 9)^3}$	10	$x^{1/2}\sqrt{x + 1}$	11	$\sqrt[4]{(x^2 - 4)^3}$	12	$x^{1/2}\sqrt{(x + 1)^3}$
13	$\sqrt[5]{(x^2 - 3)^4}$	14	$x\sqrt{x - 1}$	15	$\sqrt[5]{(x^2 - 1)^3}$	16	$x^2\sqrt{x - 2}$
17	$\sqrt[5]{(x^2 - 1)^2}$	18	$x\sqrt{1 - x}$	19	$\sqrt[5]{(x^2 - 1)^6}$	20	$\sqrt[4]{x^2 - 1}$
21	$\sqrt[6]{(x^2 - 4)^7}$	22	$\sqrt[4]{x^3(x + 1)}$	23	$\sqrt[6]{(x^2 - 9)^5}$	24	$\sqrt[4]{x(x - 2)^2}$
25	$\sqrt[7]{(x^2 - 4)^6}$	26	$(x - 1)\sqrt[3]{x^2}$	27	$\sqrt[7]{(x^2 - 9)^8}$	28	$\sqrt[3]{x^2 - 3x}$
29	$\sqrt[9]{(x^2 - 16)^5}$	30	$x(x^2 - 1)^{-1/3}$				

ЗАДАЧА 14. Построить график функции.

1	$y = (2x + 3)e^{-2x - 2}$	16	$y = e^x \cos x$
2	$y = \sqrt[3]{x^2}e^{-x}$	17	$y = \frac{e^{2x + 2}}{2x + 2}$
3	$y = xe^{-x^2}$	18	$y = \frac{\ln x}{\sqrt{x}}$
4	$y = \sqrt{x^3} \ln x$	19	$y = (3 - x)e^{x - 2}$
5	$y = \frac{x}{\ln x}$	20	$y = \ln \frac{1 + x}{1 - x}$
6	$y = xe^{-x}$	21	$y = e^{1/x^2}$
7	$y = e^{1/x} - x$	22	$y = xe^{1/(2 - x)}$
8	$y = x^2 - \ln x $	23	$y = (2x + 5)e^{-2x - 4}$
9	$y = e^{1/(x^2 - 4x + 4)}$	24	$y = 2 \ln \left(1 - \frac{4}{x}\right) - 3$
10	$y = (1 + x)e^{1/x}$	25	$y = 4 \ln \frac{x}{x + 2} + 1$
11	$y = e^{-x} \sin x$	26	$y = x(2 - \ln x)^2$
12	$y = 3 \ln \frac{x}{x - 3} - 1$	27	$y = x^3 e^{-x}$
13	$y = \frac{e^{2 - x}}{2 - x}$	28	$y = \frac{\sqrt{x}}{\ln x}$
14	$y = 3 - 3 \ln \frac{x}{x + 4}$	29	$y = 2 \ln \frac{x + 3}{x} - 3$
15	$y = xe^{1/(x - 1)}$	30	$y = \frac{e^x - 3}{2x + 7}$

ЗАДАЧА 15. Построить линию, заданную уравнением $\rho = f(\varphi)$ в полярных координатах ($\rho \geq 0$, $0 \leq \varphi \leq 2\pi$).

№	$f(\varphi)$	№	$f(\varphi)$	№	$f(\varphi)$
1	$\cos(3\varphi + \pi/4)$	11	$\sqrt{\cos(\pi + \varphi)}$	21	$4(1 - \cos 4\varphi)$
2	$1 + \cos \varphi$	12	$7(1 + \sin \varphi)$	22	$2 + \cos \varphi$
3	$2 + \sin \varphi$	13	$4 \cos 2\varphi$	23	$2 \sin \varphi$
4	$4 \operatorname{tg}(\varphi/2)$	14	$\sin(\varphi/2)$	24	$\cos(\varphi/2)$
5	$2 \cos 3\varphi$	15	$2 \sin 3\varphi$	25	$5(2 - \cos \varphi)$
6	$3\sqrt{\cos 2\varphi}$	16	$3(2 - \sin \varphi)$	26	$\sqrt{\sin(-2\varphi)}$
7	$1 + \cos^2 2\varphi$	17	$2 + \sin^2 2\varphi$	27	$2 \operatorname{tg} \varphi$
8	$5(1 - \cos 2\varphi)$	18	$1 - \sin 2\varphi$	28	$3 \cos^2 2\varphi$
9	$2(1 + \sin 3\varphi)$	19	$\sqrt{4 \cos \varphi}$	29	$3 + 2 \cos \varphi$
10	$\sin^2 2\varphi$	20	$5(1 + \cos 3\varphi)$	30	$4 \sin^2 3\varphi$

ЗАДАЧИ 16,17. Вычислить приближенно указанные величины.

№	Задача16	Задача17	№	Задача16	Задача17
1	$\sqrt{10}$	$\log_6 37$	16	$\operatorname{ctg} 46^\circ$	$\sqrt[4]{257}$
2	$\log_3 10$	$\operatorname{tg} 44^\circ$	17	$\sqrt{99}$	$5^{2.1}$
3	$\operatorname{tg} 46^\circ$	$\sqrt{37}$	18	$4^{1.8}$	$\operatorname{arcctg} 0.9$
4	$\sqrt[3]{28}$	$3^{3.2}$	19	$\operatorname{arcctg} 0.1$	$\sqrt[4]{255}$
5	$3^{2.1}$	$\operatorname{arctg} 0.9$	20	$\sqrt[3]{63}$	$\sin 27^\circ$
6	$\operatorname{arctg} 0.1$	$\sqrt{35}$	21	$\operatorname{ctg} 47^\circ$	$\log_4 257$
7	$\sqrt[4]{82}$	$\sin 29^\circ$	22	$\log_5 124$	$\sqrt[4]{626}$
8	$\sin 31^\circ$	$\log_6 35$	23	$\sqrt[3]{126}$	$5^{1.9}$
9	$\log_3 8$	$\sqrt{50}$	24	$4^{3.1}$	$\sin 26^\circ$
10	$\sqrt{8}$	$3^{2.8}$	25	$\operatorname{ctg} 44^\circ$	$\sqrt[4]{624}$
11	$3^{1.9}$	$\sin 28^\circ$	26	$\sqrt[3]{124}$	$5^{2.8}$
12	$\cos 61^\circ$	$\sqrt{48}$	27	$5^{3.2}$	$\log_4 255$
13	$\sqrt{17}$	$5^{2.9}$	28	$\log_6 217$	$\sqrt[4]{83}$
14	$3^{2.2}$	$\log_3 28$	29	$\sqrt[3]{29}$	$\log_5 626$
15	$\log_4 17$	$\sqrt{63}$	30	$\log_3 82$	$\cos 63^\circ$

ЗАДАЧА 18. Вычислить частные производные первого порядка.

№	$z = f(x, y)$	№	$z = f(x, y)$
1	$z = x^3 + y^3 + 3x/y$	16	$z = \ln(1 + x/y)$
2	$z = \sqrt{x^2 - y^2}$	17	$z = \cos(y + \sin x)$
3	$z = \operatorname{arctg} \left(\frac{x + y}{1 - xy} \right)$	18	$z = \ln \operatorname{tg}(y/x)$
4	$z = \sin(x + \cos y)$	19	$z = xy \sin(xy)$
5	$z = x^2 \ln(x + y)$	20	$z = x^4 \cos^2 y$
6	$z = e^{x/y}$	21	$z = e^{\sin(y/x)}$
7	$z = \ln \cos(y/x)$	22	$z = \frac{xy}{\sqrt{x^2 + y^2}}$
8	$z = \ln \operatorname{tg}(x - y)$	23	$z = x \cos(x + y)$
9	$z = e^{(x^3 + y^2)^2}$	24	$z = e^x \cos y$
10	$z = x^3 + 4x^2y^2 - y^4$	25	$z = x^3 + 2y^2 - 2y^3x^2$
11	$z = x \sin(2x + 3y)$	26	$z = y^x$
12	$z = \cos(x^2)/y$	27	$z = \ln \operatorname{tg}(x/y)$
13	$z = \ln(x^2 + y)$	28	$z = x^3 \sin y + y^3 \cos x$
14	$z = xy + y/x$	29	$z = \operatorname{tg}(y^2/x)$
15	$z = x^2 \sin^4 y$	30	$z = y \ln(x^2 - y^2)$

ЗАДАЧА 19. Вычислить смешанные производные второго порядка и проверить, что они равны.

№	$z = f(x, y)$	№	$z = f(x, y)$
1	$z = e^{xy(x^2 + y^2)}$	16	$z = 2x^2y + 3xy^2 + x^3$
2	$z = \arcsin \frac{x}{\sqrt{x^2 + y^2}}$	17	$z = x^2/y^2 - y/x$
3	$z = (x^2 + y^2) \cdot e^{x + y}$	18	$z = \frac{x}{\sqrt{x^2 + y^2}}$
4	$z = x \ln(x^3y^2)$	19	$z = \sqrt{2xy + y^2}$
5	$z = \frac{x^2 - y^2}{x^2 + y^2}$	20	$z = y \ln(x^2 - y^2)$
6	$z = \operatorname{arctg} \left(\frac{y}{1 + x^2} \right)$	21	$z = \operatorname{arctg}(y/x) + \operatorname{arctg}(x/y)$
№	$z = f(x, y)$	№	$z = f(x, y)$
7	$z = \frac{xy}{x + y}$	22	$z = e^x(\cos y + x \sin y)$
8	$z = e^x(x \sin y + y^2)$	23	$z = x^y$
9	$z = \frac{x + y}{x - y}$	24	$z = x \ln(y/x)$
10	$z = \operatorname{arctg}(x/y^2)$	25	$z = e^{x + y}(x \cos y + y \sin x)$
11	$z = \sin(x^2)/y$	26	$z = \ln(x^2 + xy + y^2)$
12	$z = x \operatorname{arctg} \left(\frac{y}{y - x} \right)$	27	$z = \sin(x^2 - y^3)$
13	$z = \operatorname{tg}(x^2/y)$	28	$z = e^{3x^2 + 2y^2 - xy}$
14	$z = \operatorname{arctg} \left(\frac{x + y}{1 - xy} \right)$	29	$z = xy + x/y$
15	$z = \ln \sqrt{x^2 + y^2}$	30	$z = xy \sin(x - y^2)$

ЗАДАЧА 20. Найти и исследовать точки экстремума функции.

1	$u = 2x^2 + y^2 + z^2 - xy + 2z - 3x + 4y$
2	$u = x^2 + 3y^2 + z^2 - xz - 2x + 3y$
3	$u = 3xy + 5xz - 8yz - 9x^2 - 6y^2 - 11z^2$
4	$u = yz - 2xy - 4x^2 - 3y^2 - z^2 - 8x$
5	$u = x^2 + y^2 + 2z^2 + yz + 2z - 3y$
6	$u = 2x^2 + \frac{3}{2}y^2 + z^2 - xy + 2xz + yz - y + 2z$
7	$u = xz + yz - 2xy - 5x^2 - y^2 - 3z^2 + 6z$
8	$u = 2x^2 + y^2 + 3z^2 + xy + xz - 4x - 2y + z$
9	$u = x^2 + \frac{3}{2}y^2 + 2z^2 + xy + xz - 4x - 2y + z$
10	$u = \frac{1}{2}xy + xz - 2yz - x^2 - y^2 - 5z^2 - 2x + 4y$
11	$u = 2x^2 + y^2 + \frac{3}{2}z^2 - xz + 2xy + yz - 3y$
12	$u = 5x^2 + y^2 + 5z^2 + 2xy - xz - \frac{1}{2}yz - 10x$
13	$u = 5x^2 + y^2 + 5z^2 + 2xy - xz - yz - 4x + 2y$
14	$u = xy + xz - 2yz - 4x^2 - y^2 - 5z^2 - 2y$
15	$u = xy - 2x^2 - y^2 - z^2 - 2z + x - 4y$
16	$u = xz - x^2 - 3y^2 - z^2 + x - 6y + z$
17	$u = 2x^2 + y^2 + 3z^2 + 2xz - 4y + 2x$
18	$u = 2yz - 2xy - 3x^2 - 4y^2 - 5z^2 + 6x$
19	$u = x^2 + 5y^2 + z^2 + 2xy - xz - yz - 10y$
20	$u = x^2 + xy + 2y^2 + 4yz + 5z^2 - 4z$
21	$u = 2xz + 4yz - 2xy - 2x^2 - 5y^2 - 5z^2 - 4x$
22	$u = 2xy + 2xz - 5x^2 - 6y^2 - 4z^2 - 8z$
23	$u = 3x^2 + 4y^2 + 5z^2 + 2xy - 2yz - 8y$
24	$u = 4x^2 + 6y^2 + 5z^2 - 2xz - 2yz + 10z$
25	$u = 9x^2 + 6y^2 + 11z^2 - 3xy - 5xz + 8yz$
26	$u = x^2 + 17y^2 + 3z^2 + 2xy - xz - 7yz$
27	$u = xz + 7yz - 2xy - x^2 - 17y^2 - 3z^2$
28	$u = 3xy + 5xz - 8yz - 9x^2 - 6y^2 - 11z^2$
29	$u = 2x^2 + y^2 + 3z^2 + xy + xz - 4x - 2y + z$
30	$u = 5x^2 + y^2 + z^2 + 2xy - xz - \frac{1}{2}yz - 10x$

**ТЕОРЕТИЧЕСКИЕ ВОПРОСЫ
К ЭКЗАМЕНУ
ПО МАТЕМАТИЧЕСКОМУ АНАЛИЗУ**

1. Определение предела последовательности. Подпоследовательность, частичный предел.
2. Критерий Коши. Свойства сходящихся последовательностей. Теорема о пределе промежуточной последовательности.
3. Определение предела функции. Теорема о пределе промежуточной функции. Первый замечательный предел.
4. Бесконечно малые функции. Теорема о связи бесконечно малых и бесконечно больших функций.
5. Теорема о пределе произведения бесконечно малой и ограниченной функций.
6. Второй замечательный предел. Раскрытие неопределенностей 0^0 , ∞^0 , 1^∞ .
7. Сравнение бесконечно малых. Эквивалентность бесконечно малых. Основные эквивалентности.
8. Теорема о разности эквивалентных бесконечно малых. Теорема о замене эквивалентности в пределе отношения.
9. Непрерывность функции в точке. Теорема о непрерывности арифметических действий, о непрерывности сложной функции.
10. Непрерывность функции на отрезке. Свойства функций, непрерывных на отрезке.
11. Точки разрыва и их классификация.
12. Производная, ее геометрический и механический смысл.
13. Теорема о связи непрерывности и дифференцируемости.

14. Арифметические действия с производными.
15. Таблица производных.
16. Производные сложной и обратной функций.
17. Дифференциал, его связь с производной, геометрический смысл, инвариантность.
18. Теорема Ролля, ее геометрический смысл.
19. Теорема Лагранжа, ее геометрический смысл. Теорема Коши.
20. Правило Лопиталя.
21. Многочлен Тейлора, формула Тейлора.
22. Остаточный член формулы Тейлора в формах Пеано и Лагранжа.
23. Локальный экстремум функции одного переменного. Необходимое и достаточное условия экстремума.
24. Геометрический смысл второй производной. Точки перегиба.
25. Асимптоты графика функции. Существование наклонной асимптоты.
26. Частные производные функции нескольких переменных. Теорема о равенстве смешанных производных.
27. Дифференцируемость функции нескольких переменных. Дифференциал.
28. Локальный экстремум функции нескольких переменных. Необходимое условие экстремума.

Вопросы к экзамену могут быть уточнены и дополнены лектором потока.